

H

Z

N

I

T

manhattan

O

!

o

X

V

بِسْمِ اللَّهِ الرَّحْمَنِ الرَّحِيمِ

আজকের গণিত ক্লাসে সবাইকে

“স্বাগতম”

শিক্ষক পরিচিতি

মিজানুর রহমান সাকিল

অতিথি শিক্ষক গণিত

সাপাহার সরকারি টেকনিক্যাল

স্কুল ও কলেজ

সাপাহার, নওগাঁ।



পাঠ পরিচিতি

শ্রেণিঃ ৬ষ্ঠ

বিষয়ঃ গণিত

মূলপাঠঃ সংখ্যার গল্প

অনুশীলনীঃ ১

সময়ঃ ৪৫ মিনিট

পাঠ্যপুস্তকের সমস্যাগুলিঃ

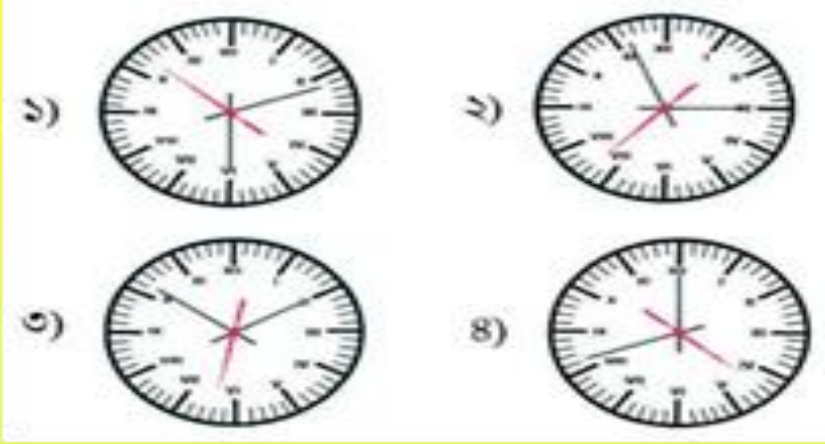
১. ট্যালির মাধ্যমে গণনা করে সংখ্যা লিখ বা ট্যালির মাধ্যমে সংখ্যাকে প্রকাশ করঃ

Diagram illustrating a problem: Five groups of five vertical lines (tally marks) are shown, with a pink arrow pointing to a square box containing a question mark. Below this, a rectangular box contains three question marks, with a pink arrow pointing to the number ২৭.

সমাধান নিচের চিত্রে দেয়া হলোঃ

Diagram illustrating the solution: Five groups of five vertical lines (tally marks) are shown, with a pink arrow pointing to a square box containing the number ২৫. Below this, a rectangular box contains five groups of five vertical lines each, with a pink arrow pointing to the number ২৭.

২. কোন ঘড়িতে সময় কত?



সমাধানঃ

১) ৬ টা ১১ মিনিট

২) ২ টা ৫৬ মিনিট

৩) ১ টা ৫১ মিনিট

৪) ১১ টা ৪১ মিনিট

৩. নিচের ছকটি পূরন করোঃ

সংখ্যা	ঘড়িতে কীভাবে লেখা আছে	সংখ্যা	ঘড়িতে কীভাবে লেখা আছে
১		৭	
২		৮	
৩		৯	
৪		১০	
৫		১১	
৬		১১	

সমাধানঃ













সংখ্যা	ঘড়িতে কীভাবে লেখা আছে	সংখ্যা	ঘড়িতে কীভাবে লেখা আছে
১	I	৭	VII
২	II	৮	VIII
৩	III	৯	IX
৪	IV	১০	X
৫	V	১১	XI
৬	VI	১১	XII

৪. মায়ানরা কীভাবে সংখ্যা লিখত জানো? নিচের সারণিটি পূরণ করতে পারবে?

ছক পাঠ্যপুস্তকে দেখ।

সমাধানঃ

পূরণকৃত ছকটি নিম্নরূপঃ

আমাদের পরিচিত সংখ্যা	মায়ানরা যেভাবে লিখত	আমাদের পরিচিত সংখ্যা	মায়ানরা যেভাবে লিখত
০		৬	
১		৭	
২		৮	
৩		১০	
৪		১৪	
৫		১৯	

“সমাপ্ত”